

校本課程學習單

(四年級)

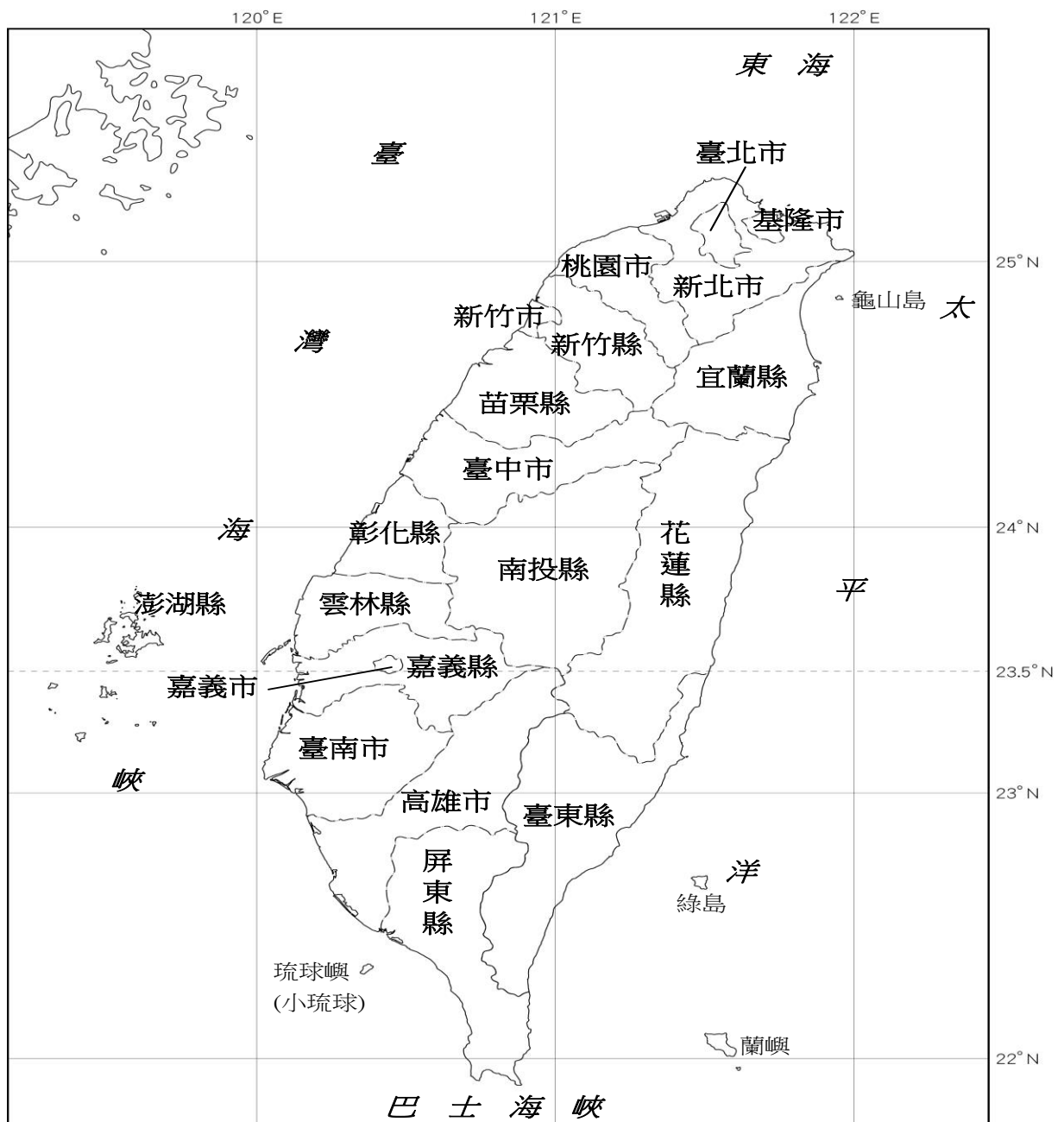


話我文元

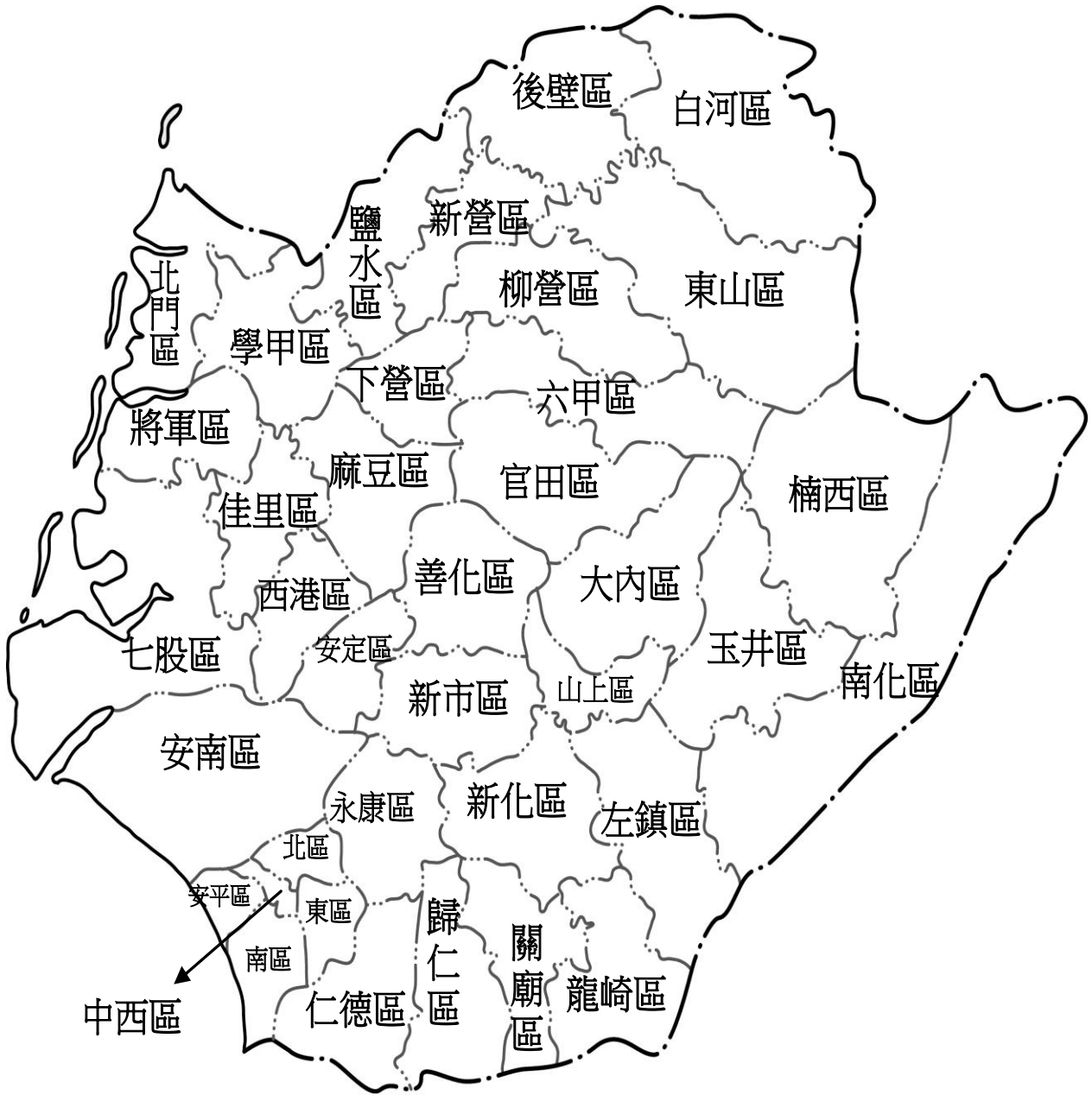
四年____班 座號：____ 姓名：_____

1. 我的家鄉在_____縣（市）_____鄉（鎮、市、區）。
2. 我的家鄉位在臺灣的_____方。
3. 我的家鄉四周有_____（縣市）。
4. 我的家鄉濱臨_____（海洋）。

臺灣行政區圖



臺南市行政區圖



戀戀鹽水溪♡

四年____班 座號：____ 姓名：_____

☆認識鹽水溪

鹽水溪舊稱_____溪，位於臺灣南部，屬於中央管河川，全境在臺南市。發源於臺南市_____區中央山脈南部之大坑尾，在臺南市_____出海，注入_____海峽。我們文元里屬於臺南市北區是在鹽水溪之（東、西、南、北）方，隔著鹽水溪與臺南市_____區相望。

★看過了鹽水溪的相關報導及近況，請你和小組討論並完成下列問題。

一、現在的鹽水溪有哪些功能？

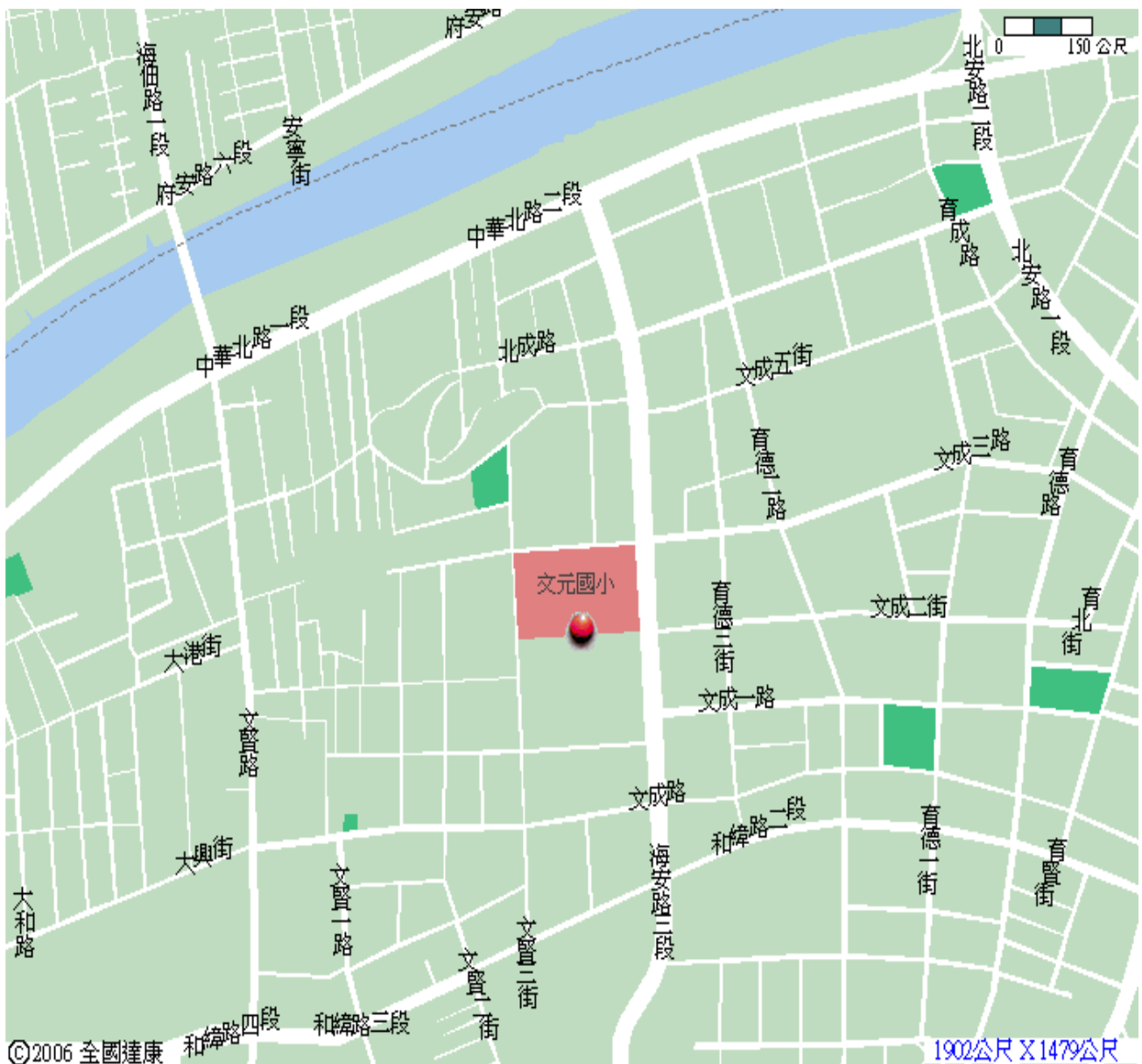
二、鹽水溪有哪些需要解決的問題？

三、身為小學生的你，可以為鹽水溪做些什麼？

畫我文元

四年____班 座號：____ 姓名：_____

1. 請找出文元國小的位置，並將其塗上「黃色」，以作為標示。
2. 請於文元國小四周找出海安路、文賢路、和緯路及中華北路等道路，並將其塗上「粉紅色」，以作為標示。
3. 請找出鹽水溪的位置，並將其塗上「藍色」，以作為標示。



圖片資料來源：台灣電子地圖服務網 <http://www.map.com.tw/>

老師的話：太棒了 很用心 有進步 可以更好喔！



鄭仔寮萬事通

四年____班 座號：____ 姓名：____

透過「小記者訪問里長」的活動，大家對於鄭仔寮已有更進一步的了解與認識，現在請完成有關鄭仔寮的相關問題：

➤ 鄭仔寮位於臺南市的哪一區？ 答：_____

➤ 鄭仔寮居民的信仰中心是哪個地方？ 答：_____

➤ 以前鄭仔寮的土地利用方式是種植什麼農作物？

答：_____

➤ 請寫出兩個位於鄭仔寮的公園名稱。

答：_____

➤ 小北觀光夜市、花園夜市和臺南花卉批發市場都是鄭仔寮較具特色的地點，你比較喜歡哪個景點？為什麼？

答：_____

